

2021年度 大学院経営管理研究科

経営管理専攻 修士課程

入学試験（経営分析プログラム）

【小論文試験問題】

以下の文章と図は、ケネス・S・ロゴフ著『現金の呪い—紙幣をいつ廃止するか?』から抜粋したものである（抜粋に際して、一部の小見出しを省略するとともに、文章と図表の一部を改変している）。

この文章を読んで、以下の（1）から（4）に答えなさい。なお、解答にあたっては、全て日本語で書くこと。

- （1） 文中の空欄 **A**（図表3）と **B**（図表4）に入れるのに最も適切なものを文末の【図表】①～⑥の中から1つ選んで該当する番号で答えなさい。
- （2） 下線部（A）に関連して、以下の図表2は日本の状況を示している。文中の図表1とこの図表2から、アメリカの状況と日本の状況を比較すると何が言えるのか、共通点と相違点に分けて300字以内で説明しなさい。

この部分の図表は、著作権者の許諾を受けていないため、現時点では掲載することができませんので、ご了承願います。

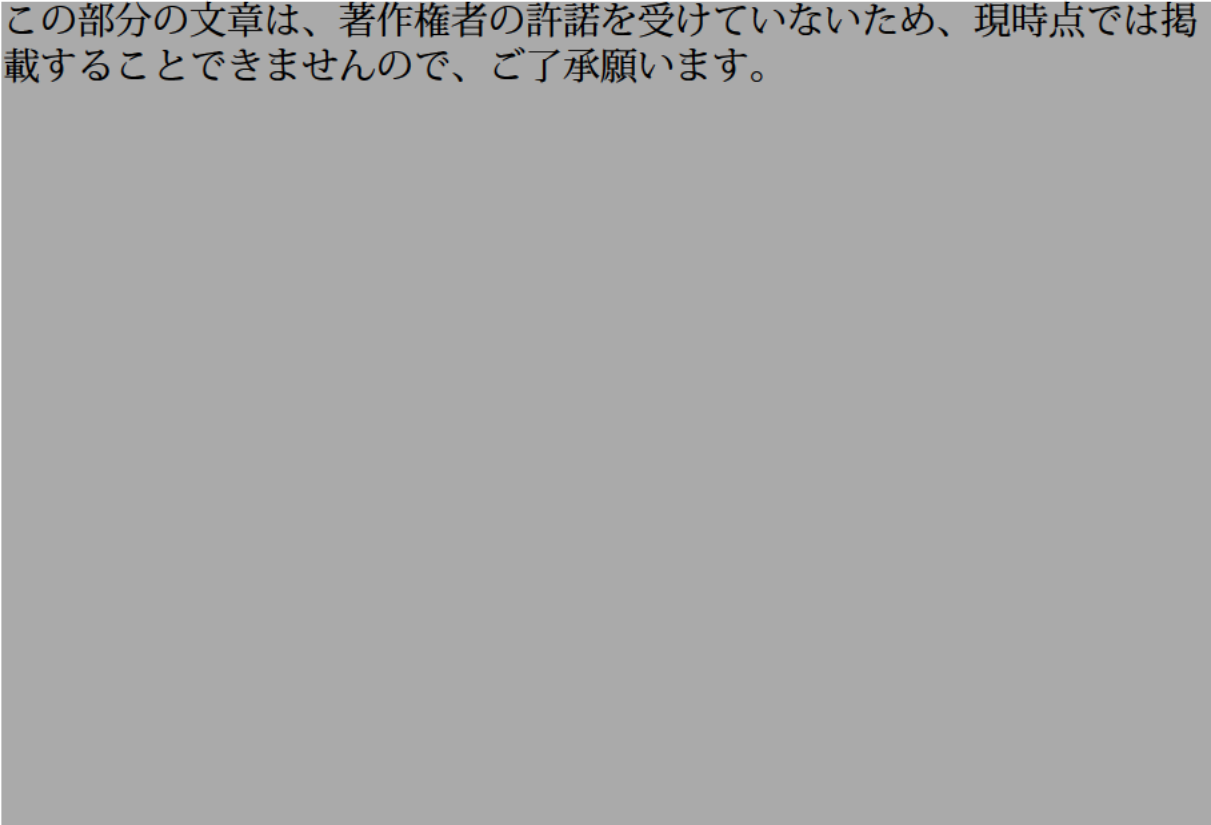
- （3） 下線部（C）に関して、①どのような手法か、②なぜ推定が可能なのか、③この手法の問題点は何か、について400字以内で説明しなさい。

- (4) 下線部 (B) について、図表 1、2 や図表①～⑥に基づけば、現金の行方としてどのような可能性が考えられるか、以下の言葉を全て用いて 600 字以内で説明しなさい。尚、図表等で具体的な根拠がある場合にはそれを説明に含めること。また、以下の言葉を使用する際には、最初に使用した箇所に下線部を引くこと。

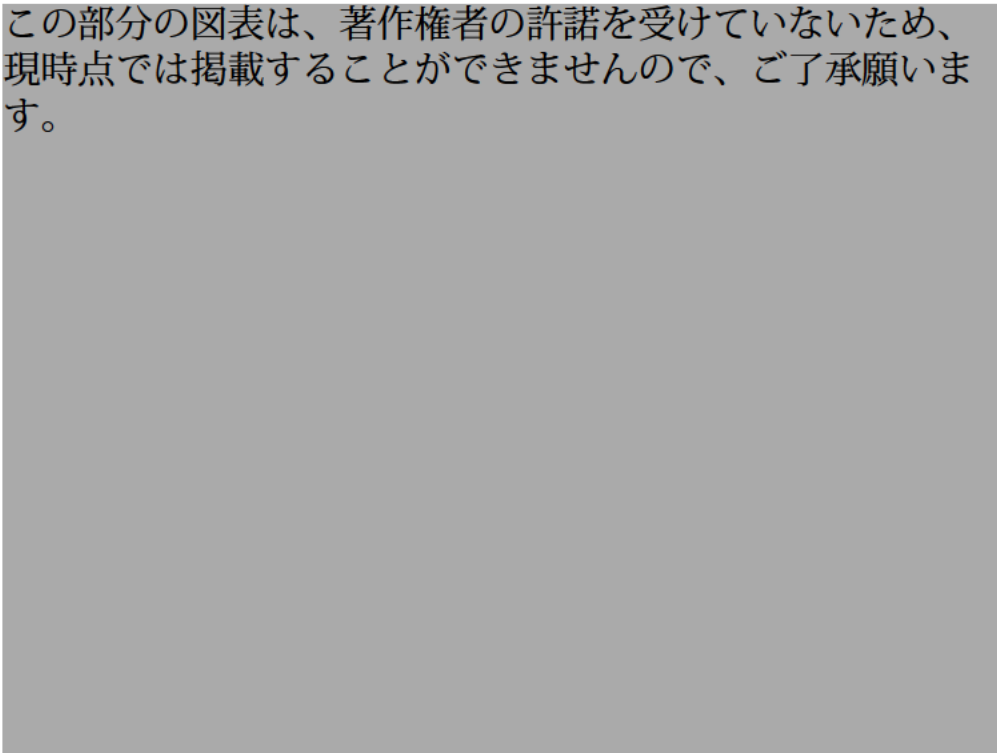
「個人保有」、「国外保有」、「高額紙幣」、「地下経済」、「小売決済手段」

【文章】

この部分の文章は、著作権者の許諾を受けていないため、現時点では掲載することができませんので、ご了承願います。



この部分の図表は、著作権者の許諾を受けていないため、現時点では掲載することができませんので、ご了承願います。



この部分の文章は、著作権者の許諾を受けていないため、現時点では掲載することができませんので、ご了承願います。


この部分の文章は、著作権者の許諾を受けていないため、現時点では掲載することができませんので、ご了承願います。

この部分の文章は、著作権者の許諾を受けていないため、現時点では掲載することができませんので、ご了承ください。


この部分の文章は、著作権者の許諾を受けていないため、現時点では掲載することができませんので、ご了承願います。

出典：ケネス・S・ロゴフ著『現金の呪い—紙幣をいつ廃止するのか？』日経 BP 社、2017年、pp. 65-86.


この部分の図表は、著作権者の許諾を受けていないため、現時点では掲載することができませんので、ご了承願います。




この部分の図表は、著作権者の許諾を受けていないため、現時点では掲載することができませんので、ご了承願います。



この部分の図表は、著作権者の許諾を受けていないため、現時点では掲載することができませんので、ご了承願います。



この部分の図表は、著作権者の許諾を受けていないため、現時点では掲載することができませんので、ご了承願います。



この部分の図表は、著作権者の許諾を受けていないため、現時点では掲載することができませんので、ご了承願います。

この部分の図表は、著作権者の許諾を受けていないため、現時点では掲載
することができませんので、ご了承ください。

出典：ケネス・S・ロゴフ著『現金の呪い—紙幣をいつ廃止するのか？』日経 BP 社、2017
年、pp. 76, 78, 85, 96, 100, 115.